

# БИЛЕТЫ ПО ОБЩЕСТВОЗНАНИЮ

## 8 класс

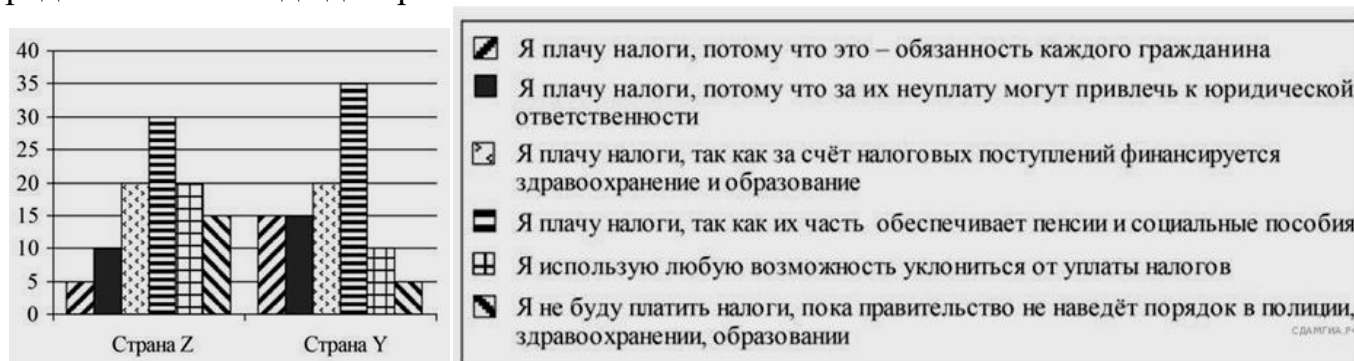
### БИЛЕТ 1

#### 1.1. Общество как форма жизнедеятельности людей

#### 1.2. Отклоняющееся поведение

#### 1.3. Практическое задание

В странах Z и Y учёные проводили опросы общественного мнения. Совершеннолетним гражданам, участвующим в опросе, был задан вопрос: «Что Вы думаете об уплате налогов?». Результаты опроса (в % от числа опрошенных) представлены в виде диаграммы.



Сформулируйте один вывод о различии в позициях групп опрошенных. Выскажите предположение о том, чем объясняется это различие

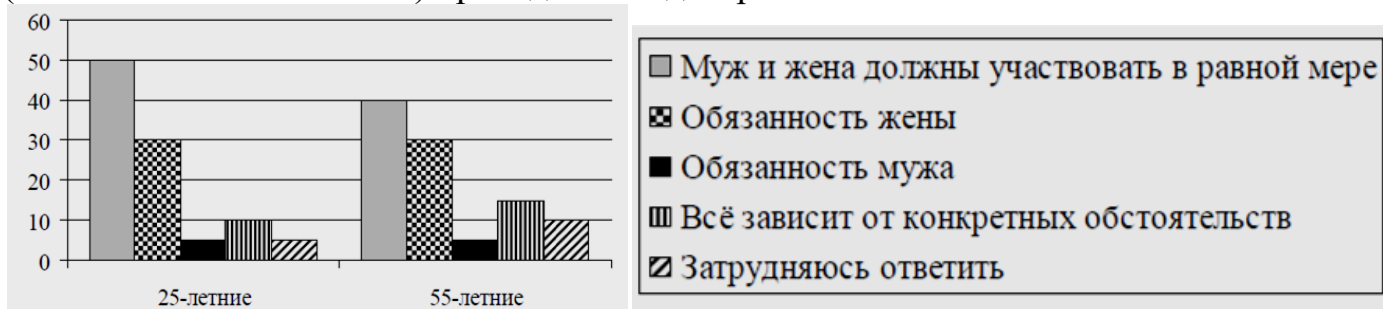
### БИЛЕТ 2

#### 2.1. Социальные статусы: понятия, виды, критерии. Примеры социальных статусов

#### 2.2. Роль государства в экономике. Методы регулирования экономики

#### 2.3. Практическое задание

Учёные опросили 25-летних и 55-летних граждан страны Z. Им задавали вопрос: «Как Вы считаете, чья обязанность вести домашнее хозяйство?» Результаты опросов (в % от числа отвечавших) приведены на диаграмме.



Сформулируйте один вывод о различии в позициях групп опрошенных. Выскажите предположение о том, чем объясняется это различие

### БИЛЕТ 3

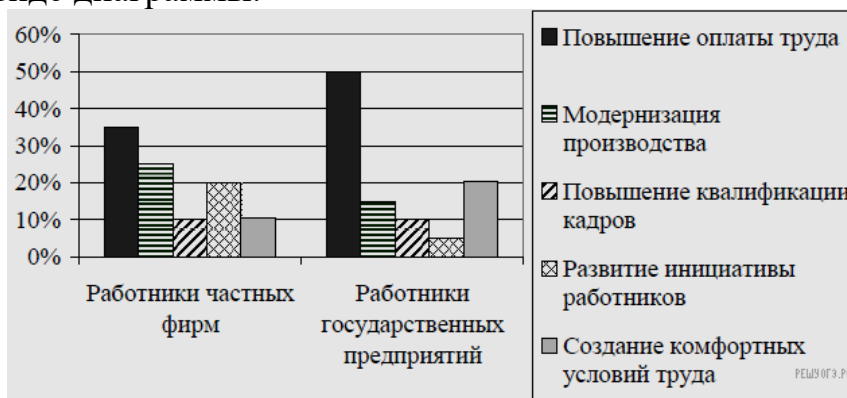
#### 3.1. Структура общества: социальные группы, социальная стратификация

#### 3.2. Собственность. Право собственности

#### 3.3. Практическое задание

В стране Z был проведён опрос общественного мнения. Гражданам, участвующим в опросе, был задан вопрос: «Какой способ увеличения производительности труда Вы

считаете наиболее эффективным?». Результаты опроса (в % от числа опрошенных) представлены в виде диаграммы.



Сформулируйте один вывод о различии в позициях групп опрошенных. Выскажите предположение о том, чем объясняется это различие

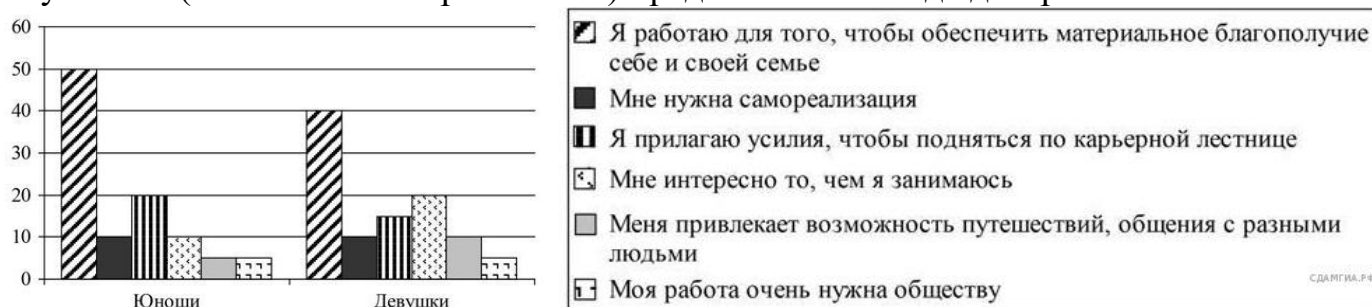
### БИЛЕТ 4

4.1. Глобальные проблемы: определение, общие черты. Глобальные проблемы современности

4.2. Доходы. Основные источники формирования доходов населения. Причины падения доходов

4.3. Практическое задание

Учёные опросили 23-летних работающих юношей и девушек страны Z. Им задавали вопрос: «Зачем Вы работаете, какова Ваша трудовая мотивация?». Полученные результаты (в % от числа опрошенных) представлены в виде диаграммы.



Сформулируйте один вывод о различии в позициях групп опрошенных. Выскажите предположение о том, чем объясняется это различие

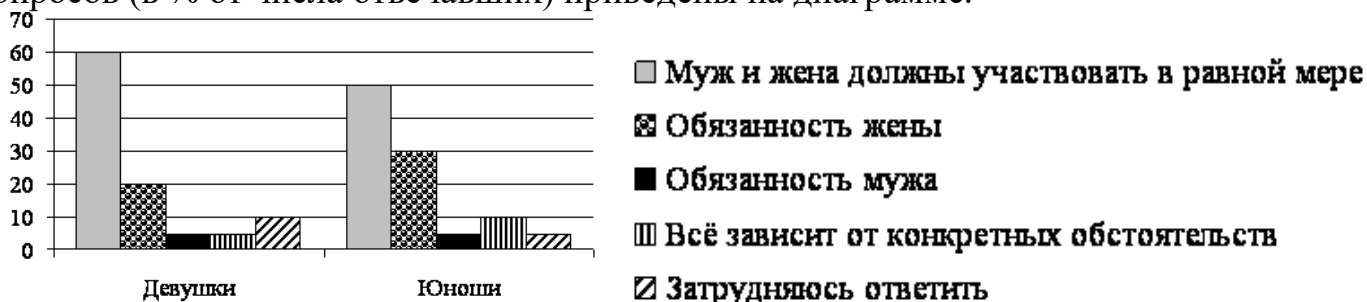
### БИЛЕТ 5

5.1. Духовная сфера жизни общества

5.2. Нации и межнациональные отношения

5.3. Практическое задание

Учёные опросили совершеннолетних юношей и девушек страны Z. Им задавали вопрос: «Как Вы считаете, чья обязанность вести домашнее хозяйство?». Результаты опросов (в % от числа отвечавших) приведены на диаграмме.



Сформулируйте один вывод о различии в позициях групп опрошенных. Выскажите предположение о том, чем объясняется это различие

### БИЛЕТ 6

**6.1. Мораль. Моральные поступки. Понятие нравственности, отличие его от морали**

**6.2. Потребление: понятие, влияющие факторы. Защита прав потребителя**

**6.3. Практическое задание**

В ходе социологических опросов, проведённых среди совершеннолетних жителей страны М им предложили ответить на вопрос: «Как вы считаете, является ли знание иностранных языков условием первой необходимости при трудоустройстве?». Результаты опроса (в % от числа опрошенных) представлены в виде диаграммы.



Сформулируйте один вывод о различии в позициях групп опрошенных. Выскажите предположение о том, чем объясняется это различие

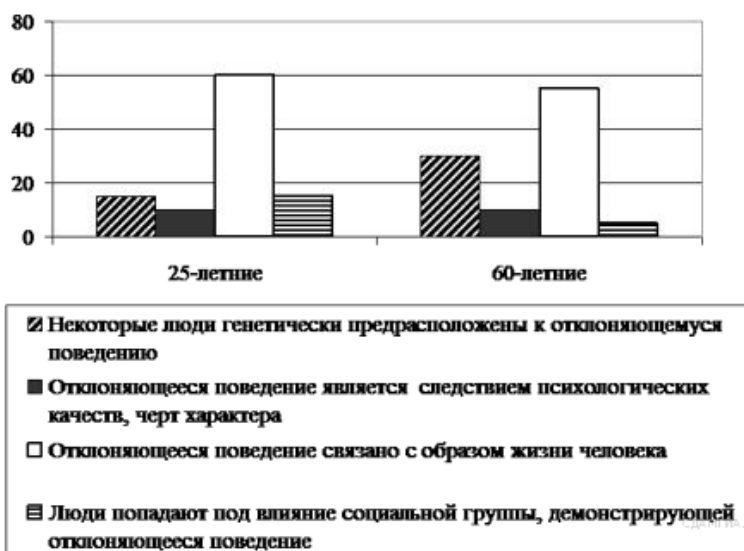
### БИЛЕТ 7

**7.1. Образование. Система образования в Российской Федерации**

**7.2. Предпринимательская деятельность. Экономические функции предпринимателей**

**7.3. Практическое задание**

Социологические службы опросили 25-летних и 60-летних жителей страны Z. Им задавали вопрос: «С чем, по вашему мнению, связано отклоняющееся поведение людей?» Результаты опроса (в % от числа опрошенных) представлены в виде диаграммы.



Сформулируйте один вывод о различии в позициях групп опрошенных. Выскажите предположение о том, чем объясняется это различие


### БИЛЕТ 8

#### 8.1. Наука в современном обществе

#### 8.2. Рыночная экономика: понятие, объекты и субъекты рынка. Конкуренция. Ценообразование

#### 8.3. Практическое задание

Учёные опросили совершеннолетних граждан страны Z, имеющих разный уровень образования. Им задавали вопрос: «Как Вы считаете, чья обязанность вести домашнее хозяйство?» Результаты опросов (в % от числа отвечавших) приведены на диаграмме.



Сформулируйте один вывод о различии в позициях групп опрошенных. Выскажите предположение о том, чем объясняется это различие

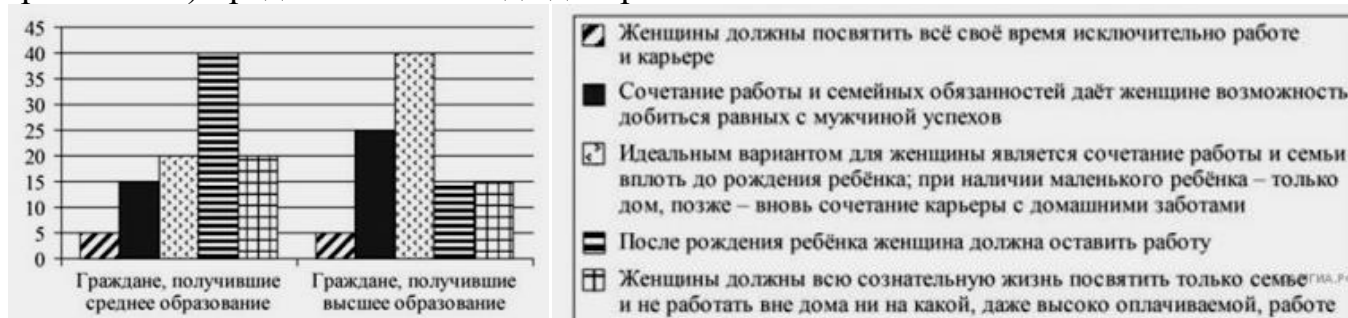
### БИЛЕТ 9

#### 9.1. Религия, как одна из форм культуры, и ее роль в жизни общества. Мировые религии

#### 9.2. Семейная экономика: семейный бюджет, доходы и расходы семьи

#### 9.3. Практическое задание

Учёные изучали мнение жителей страны Z. Совершеннолетним гражданам с различным уровнем образования задавали вопрос: «Как в жизни современной женщины должны сочетаться дом и работа?» Результаты опроса (в % от числа опрошенных) представлены в виде диаграммы.



Сформулируйте один вывод о различии в позициях групп опрошенных. Выскажите предположение о том, чем объясняется это различие

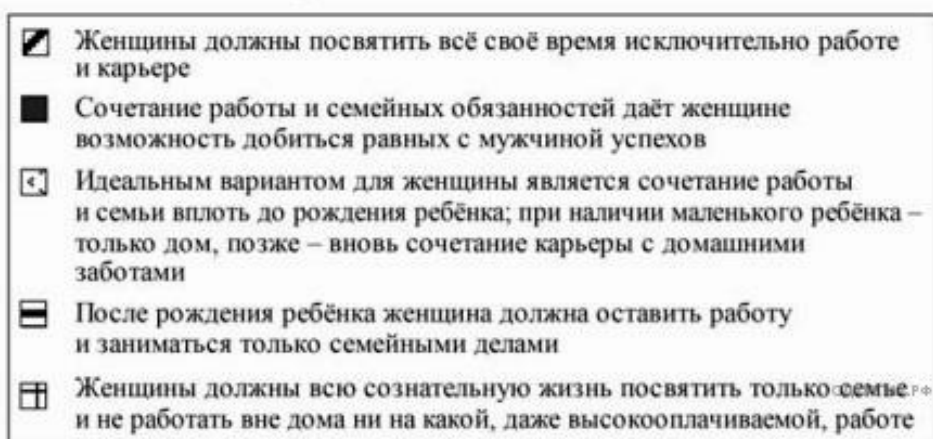
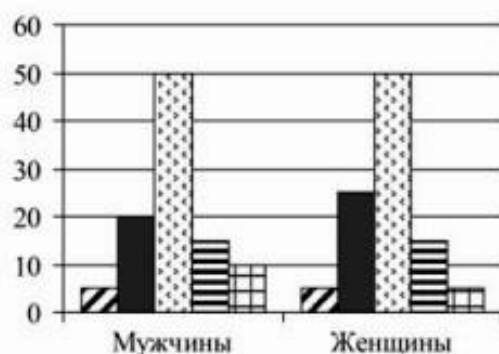
## БИЛЕТ 10

10.1. Социализация. Агенты и институты социализации. Социальные нормы

10.2. Производство. Факторы производства

10.3. Практическое задание

Учёные опросили 35-летних работающих мужчин и женщин страны Z. Им задавали вопрос: «Как в жизни современной женщины должны сочетаться дом и работа?» Результаты опроса (в % от числа опрошенных) представлены в виде диаграммы.



Сформулируйте один вывод о различии в позициях групп опрошенных. Выскажите предположение о том, чем объясняется это различие

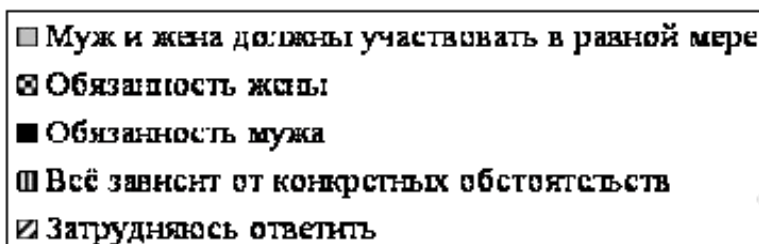
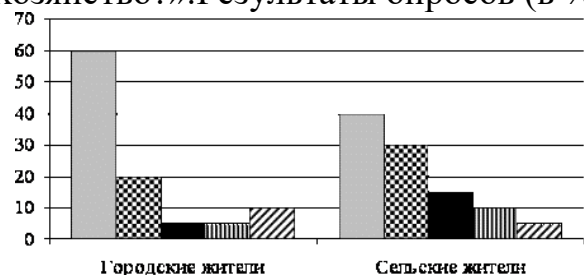
## БИЛЕТ 11

11.1. Социальные роли. Виды социальных ролей. Ролевые конфликты

11.2. Рынок и условия его функционирования

11.3. Практическое задание

Учёные опросили одинаковое количество городских и сельских жителей страны Z. Им задавали вопрос: «Как Вы считаете, чья обязанность вести домашнее хозяйство?». Результаты опросов (в % от числа отвечавших) приведены на диаграмме.



Сформулируйте один вывод о различии в позициях групп опрошенных. Выскажите предположение о том, чем объясняется это различие

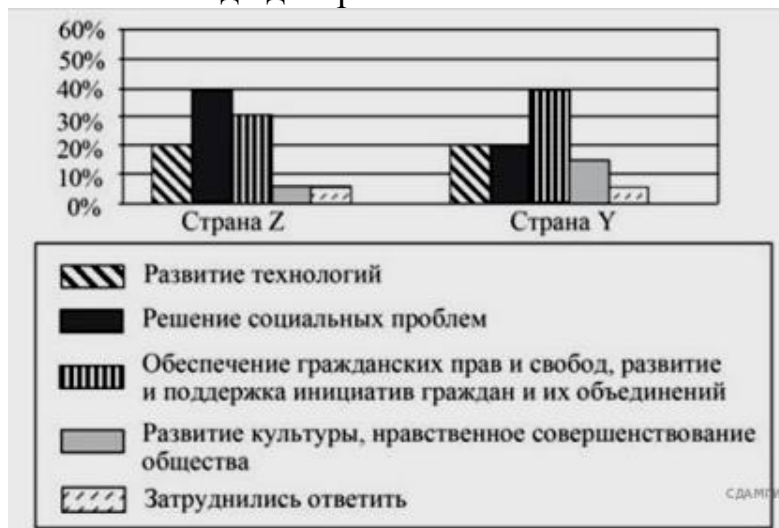
## БИЛЕТ 12

### 12.1. Социальное и биологическое в человеке. Самореализация

### 12.2. Типы экономических систем

### 12.3. Практическое задание

В 2022 г. в странах Z и Y один из фондов изучения общественного мнения провёл среди совершеннолетних граждан опрос: «Что, по Вашему мнению, сейчас важнее всего для развития Вашей страны?» Полученные результаты (в % от числа опрошенных) представлены в виде диаграммы



Сформулируйте один вывод о различии в позициях групп опрошенных. Выскажите предположение о том, чем объясняется это различие

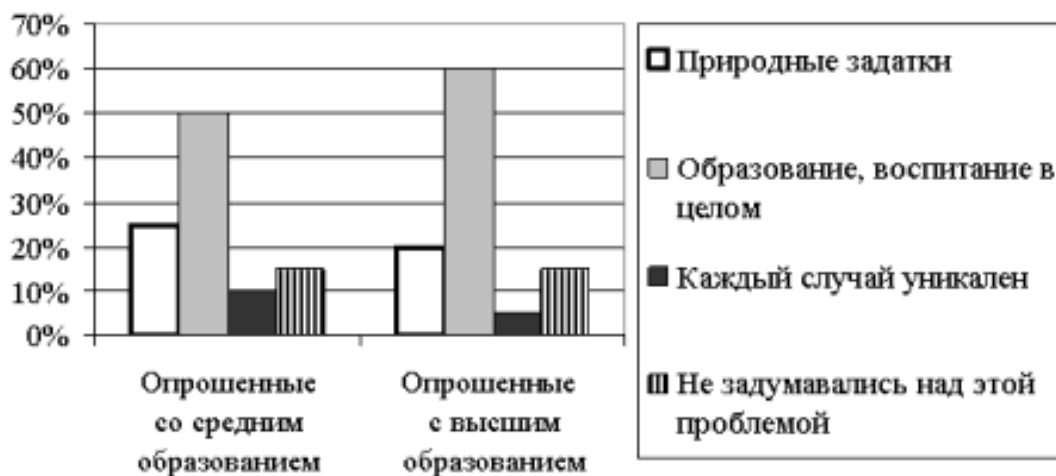
## БИЛЕТ 13

### 13.1. Совесть. Общественный и моральный долг

### 13.2. Прожиточный минимум. Потребительская корзина. Перераспределение доходов

### 13.3. Практическое задание

Учёные опросили две группы жителей страны Z: со средним и высшим образованием. Им задавали вопрос: «Что, по Вашему мнению, влияет на развитие способностей человека?» Результаты опроса (в % от числа опрошенных) представлены в виде диаграммы.



Сформулируйте один вывод о различии в позициях групп опрошенных. Выскажите предположение о том, чем объясняется это различие

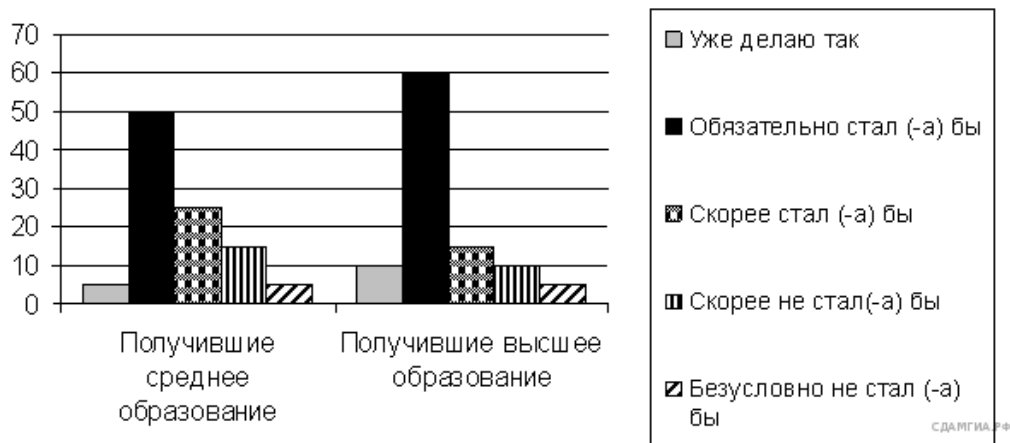
## БИЛЕТ 14

### 14.1. Социальная политика государства

### 14.2. Главные вопросы экономики

### 14.3. Практическое задание

Учёные опросили граждан страны Z, имеющих разный уровень образования. Им задавали вопрос: «Один из экологически целесообразных способов переработки мусора предполагает сортировку бытовых отходов. Если бы у Вас была возможность выкидывать каждый вид мусора в отдельный контейнер, стали бы Вы сортировать Ваш мусор?» Результаты опросов (в % от числа отвечавших) приведены на диаграмме.



Сформулируйте один вывод о различии в позициях групп опрошенных. Выскажите предположение о том, чем объясняется это различие

## БИЛЕТ 15

### 15.1. Семья: роль в жизни человека, проблемы и перспективы развития

### 15.2. Инфляция: определение, причины возникновения. Темпы инфляции

### 15.3. Практическое задание

В ходе социологических опросов совершеннолетних жителей страны N им предложили ответить на вопрос: «Что для Вас служит главным источником новостей о событиях в стране?» Результаты опроса (в % от числа опрошенных) представлены в виде таблицы.

	2021 г.	2022 г.	2023 г.
Телевидение	60	62	57
Интернет — новостные, аналитические, официальные сайты	23	16	16
Интернет — социальные сети, блоги	0	6	11
Разговоры с людьми	4	5	6
Газеты	7	3	3
Радио	5	4	3
Журналы	0	0	1
Ничего из перечисленного	1	4	3

Сформулируйте один вывод о различии в позициях групп опрошенных. Выскажите предположение о том, чем объясняется это различие

## БИЛЕТ 16

### 16.1. Социальная мобильность

### 16.2. Банковские услуги. Страховые услуги

### 16.3. Практическое задание

В ходе социологических опросов совершеннолетних жителей страны N им предложили ответить на вопрос: «Хотите ли Вы стать предпринимателем и начать своё дело?» Результаты опроса (в % от числа опрошенных) представлены в виде таблицы.

	1991 г.	2008 г.	2011 г.	2015 г.	2019 г.	2023 г.
Не хочу (Раньше хотел, теперь уже нет, Никогда не хотел и сейчас не хочу)	49	59	57	64	60	68
Хочу (Раньше хотел и теперь хочу, Раньше не хотел, а теперь хочу)	29	32	30	23	34	22
У меня есть свой бизнес	2	4	5	5	3	7
Затрудняюсь ответить	20	5	8	8	3	3

Сформулируйте один вывод о различии в позициях групп опрошенных в 1991 и 2023 гг. Выскажите предположение о том, чем объясняется это различие

## БИЛЕТ 17

### 17.1. Развитие культуры и общества

### 17.2. Занятость и безработица. Причины и последствия безработицы

### 17.3. Практическое задание

В ходе социологических опросов совершеннолетних жителей страны M им предложили ответить на вопрос: «Какие из следующих способов вложения денег представляются Вам сейчас наиболее надёжными?» Результаты опроса (в % от числа опрошенных) представлены в виде таблицы.

	2015 г.	2023 г.
Покупка недвижимости	45	46
Открытие счета в банке	21	29
Накопления денег в рублях и хранение их в наличном виде	19	17
Покупка золота, драгоценностей	17	14
Покупка иностранной валюты и хранение ее в наличном виде	8	10
Покупка акций предприятий*	0	7
Вклады в пенсионные фонды*	0	5
Другое	2	7
Затрудняюсь ответить	16	13

Сформулируйте один вывод о различии в позициях групп опрошенных. Выскажите предположение о том, чем объясняется это различие

## БИЛЕТ 18

### 18.1. Основные ценности и нормы морали

### 18.2. Государственный бюджет. Доходная и расходная части государственного бюджета



### 18.3. Практическое задание

В ходе социологических опросов, проведённых среди совершеннолетних жителей страны М им предложили ответить на вопрос: «Как вы считаете, является ли знание иностранных языков условием первой необходимости при трудоустройстве?». Результаты опроса (в % от числа опрошенных) представлены в виде диаграммы.



Сформулируйте один вывод о различии в позициях групп опрошенных. Выскажите предположение о том, чем объясняется это различие

## БИЛЕТ 19

19.1. Девиантное поведение: определение, виды и формы

19.2. Налоги. Признаки и функции налогов

19.3. Практическое задание

В ходе социологических опросов, проведённых среди совершеннолетних жителей страны Z в 2005-м и 2023-м годах, им предложили ответить на вопрос: «Из каких источников вы чаще всего узнаете актуальную информацию о происходящем в стране и мире»? Результаты опроса (в % от числа опрошенных) представлены в виде таблицы.

Варианты ответов	2005 г.	2023 г.
Печатная пресса	20	5
Интернет	15	40
Телевидение	35	33
Радио	18	15
Рассказы друзей, родственников	12	7

Сформулируйте один вывод о различии в позициях групп опрошенных. Выскажите предположение о том, чем объясняется это различие

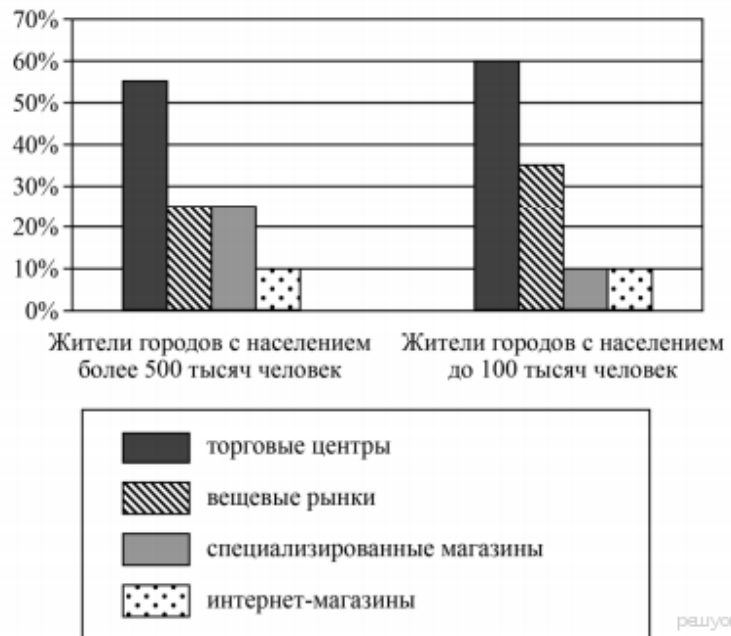
## БИЛЕТ 20

20.1. Личностная и общественная значимость образования в современном мире. Функции образования. Самообразование

20.2. Мировое хозяйство и международная торговля

20.3. Практическое задание

В ходе социологического опроса совершеннолетних жителей страны Z им задавали вопрос: «Где вы, как правило, покупаете одежду и обувь?» (можно было выбрать не более двух ответов). Результаты опроса (в % от числа опрошенных) представлены в виде диаграммы



Сформулируйте один вывод о различии в позициях групп опрошенных. Выскажите предположение о том, чем объясняется это различие